



「我是小小世界通」

2006 國家地理知識大競賽 臺灣區競賽 縣市複賽試題本

各位同學：

這份試題本共有 **40 題選擇題**與 **3 題非選擇題**，都要作答。根據比賽規則，若多位參賽選手的選擇題得分相同，主辦單位將以非選擇題的表現排定名次。

很快你就會發現，這份測驗並不以課本教材為限，有些要靠你平常多關心鄉土、地區、國家與世界發生的事情；有些則需要善用地理能力加以判斷。無論如何，都希望你全力以赴，說不定你就是明年八月參加國際「國家地理知識大競賽」的代表選手呢！有問題可以舉手請教老師。加油！

主辦單位：國立臺灣師範大學、國家地理雜誌中文版 2006/10/16

----- 填答須知 -----

- 選擇題：以 2B 鉛筆在答案卡正面作答，確認無誤之後再行作答，如有修改請擦拭乾淨。
- 非選擇題：以原子筆寫在答案卡背面；寫字不要太用力，避免戳破卡片。
- 基本資料（務必填寫）
 - (1) 學校、座號、姓名請按欄位填寫；「班級」欄，則請填入年級和班級兩項，例如，六年戊班（填 605）、8 年 12 班（填 812）。
 - (2) 「考生編碼」共五碼，請由上而下填寫於卡片上方的學校代號和班級代號兩欄位中，例如：20010。

填年級和班級

學校：_____ 班級：_____ 座號：_____ 姓名：_____

填考生編碼	學校代號	0	1	2	3	4	5	6	7	8	9
	班級代號	0	1	2	3	4	5	6	7	8	9
	座號	0	1	2	3	4	5	6	7	8	9
		0	1	2	3	4	5	6	7	8	9
		0	1	2	3	4	5	6	7	8	9

畫記說明

1. 請使用 2B 鉛筆作答。
2. 畫線要粗黑、清晰不可出格，擦拭要清潔，若畫線過輕或污損不清，不為機器所接受，考生需自行負責。
3. 答案卡須修改答案，請用橡皮擦，切勿使用立可白或其他修正液。

正確 → ■ 不正確 → ☒ ☐ ☑ ☒ ☑ ☒

【特別叮嚀】測驗結束時，答案卡、試題本，都請交給監考老師，不可攜出。

（縣市複賽有多套題目，競賽專書手冊和 DVD 中，僅收錄其中一套）

本試題本版權乃屬競賽主辦單位所有，歡迎非營利之教育推廣使用。



I. 選擇題 (共 40 題、每題 2.5 分)

1. 西非季風氣候的主要成因爲：
(A) 盆地地形影響 (B) 寒暖流交會影響
(C) 海陸分布影響 (D) 行星風系季移影響
2. 以下何地會最先看到元旦當天的日出？
(A) 斐濟蘇瓦 (B) 英國倫敦
(C) 澳洲墨爾本 (D) 新幾內亞摩瑞斯比
3. 全臺灣 319 個鄉鎮市中，面積最大的行政區是：
(A) 屏東縣車城鄉 (B) 花蓮縣秀林鄉
(C) 臺中縣太平市 (D) 宜蘭縣羅東鎮
4. 站在那一個緯度上，原地轉一圈就等於繞地球一圈？
(A) 0 度 (B) 30 度 (C) 60 度 (D) 90 度
5. 下列那一個行政區名稱，是屬於鄉鎮市區層級的地名？
(A) 臺中 (B) 臺南 (C) 臺西 (D) 臺北
6. 下列那一個國家公園的生物棲地環境，與其他三者的差異最大？
(A) 玉山國家公園 (B) 雪霸國家公園
(C) 太魯閣國家公園 (D) 陽明山國家公園
7. 下列哪一個中國城市，因夏季涼爽、四季如春，有「春城」之稱？
(A) 重慶 (B) 廣州 (C) 杭州 (D) 昆明
8. 東南亞地區的地理特色中，哪一項與「殖民地式經濟」的關係最密切？
(A) 多港埠型都市 (B) 文化呈過渡性色彩
(C) 農林礦產資源豐富 (D) 大河下游爲人口稠密的精華區
9. 開拓元陽梯田的哈尼族人，發展出何種建築，以適應當地特殊的地形及氣候？
(A) 長屋 (B) 回樓 (C) 蘑菇房 (D) 風雨樓
10. 臺灣下列那個地區的海岸環境不適合紅樹林的生長，因此沒有天然的紅樹林分布？
(A) 臺北縣 (B) 花蓮縣 (C) 新竹縣 (D) 臺南縣



11. 亞洲東部冬季發源於西伯利亞的季風本由西北往東南吹襲，但到華南一帶逐漸轉往東北方向，其主要原因是：
- (A) 地球自轉 (B) 地勢高低 (C) 海陸差異 (D) 冷氣團強弱
12. 印度阿薩密省是印度半島雨量最多的地區。請問：該地充沛的水汽主要是什麼季風帶來的？
- (A) 西南季風 (B) 東南季風 (C) 西北季風 (D) 東北季風
13. 日本與朝鮮半島同為溫帶季風氣候，但日本西海岸終年有雨，而朝鮮半島雨量集中夏季，主要的原因為何？
- (A) 朝鮮半島地勢較高 (B) 朝鮮半島受到高壓籠罩
(C) 日本多山所以多雨 (D) 日本冬季季風經過海面
14. 班上四位同學針對課本上「夜間是熱帶的冬天」這句話的成因，分別提出看法，下列何者的說法比較正確？
- (A) 阿森：「年雨量多，冬季對流雨頻繁。」
(B) 銘泰：「年溫差小，夜間氣溫較低。」
(C) 阿妮：「氣候乾燥，日夜溫差變化大。」
(D) 小燕：「夜間經常有大雷雨，氣溫相對降低。」
15. 「出火」是屏東縣恆春鎮一著名觀光景點，因地面上燃燒的火焰終年不斷而得名，造成此一景觀的主要原因是：
- (A) 終年火山活動 (B) 地下天然氣湧出
(C) 石灰岩風化造成 (D) 落山風引發森林大火
16. 多明尼克島位於中美洲，屬小安地列斯群島，位於山頂的「沸湖」為島上最具特色的著名景觀，以下何者為其成因？
- (A) 火山活動造成 (B) 人為挖鑿形成
(C) 熱帶地區氣流上升 (D) 地底天然氣噴出形成
17. 厄瓜多外海的加拉巴哥群島位於赤道附近，其海水溫度卻經常維持在攝氏 15°C 左右，造成此一現象的原因為何？
- (A) 秘魯涼流通過 (B) 東南信風吹拂
(C) 聖嬰現象效應 (D) 間熱帶輻合區季移
18. 世界有許多島嶼，其島上不同地區的主權，分屬於不同的國家，但下列那一島嶼的主權並非如此，而是為單一國家所擁有？
- (A) 婆羅洲 (B) 愛爾蘭島 (C) 新幾內亞島 (D) 馬達加斯加島



19. 在世足賽中，英格蘭 VS. 阿根廷向來被視為經典的對戰組合，兩國也互把對方當成死對頭來看待，請問兩國的恩怨是肇因於何事？
- (A) 福克蘭群島戰爭
(B) 伊斯蘭教與基督教之爭
(C) 阿根廷曾經為英國的殖民地
(D) 阿根廷人很多在英國從事地下經濟
20. 英國的全名為「大不列顛及北愛爾蘭聯合王國」，而當中的大不列顛是由哪三個地區所組成的？甲、蘇格蘭，乙、英格蘭，丙、愛爾蘭，丁、威爾斯。
- (A) 甲乙丙 (B) 甲乙丁 (C) 甲丙丁 (D) 乙丙丁
21. 明代徐霞客曾說：「五嶽歸來不看山，黃山歸來不看嶽」、「天下名景集黃山」的語句，由此可見黃山景色之秀麗。請問黃山位於中國的哪一省境內？
- (A) 浙江省 (B) 江西省 (C) 江蘇省 (D) 安徽省
22. 磷礦是島國諾魯的主要外匯來源，也是維持該國經濟的最重要產業。磷礦的輸出，是由兩座凸出在外海巨大懸桁管送至停在外海的貨輪上，造成此景象的主因是：
- (A) 環島皆為沙岸潟湖，水淺暗沙多
(B) 環島皆為珊瑚礁岩岸，缺乏良港
(C) 諾魯排外情形嚴重，外商不敢進入
(D) 洋流影響沿岸流，使貨輪難以靠岸
23. 凱凱想以最短的時間，從大西洋岸走到太平洋岸，完成看到兩大洋的願望。請問：若只考慮下列地區與周圍海洋的關係，她的願望最可能在下列哪一個地區實現？
- (A) 非洲 (B) 歐洲 (C) 澳洲 (D) 中美洲
24. 馬利的廷巴克圖位在撒哈拉沙漠南部，在海運未發達時代，它曾是綠洲商旅大城，也是古馬利王國的都城，請問廷巴克圖在當時扮演著非洲哪兩個地區的貿易中站？
- (A) 北非、東非 (B) 東非、南非
(C) 北非、西非 (D) 西非、南非
25. 馬爾地夫的領導人曾在國際環境保護會議中呼籲大家救救他的國家，因為照目前海水上升的速度，馬爾地夫很快就要從地球上消失了。下列哪一項因素是造成此危機的主因？
- (A) 海嘯侵襲 (B) 聖嬰現象 (C) 溫室效應 (D) 火山作用




26. 克拉瑪依位於新疆準噶爾盆地內的中國第二大沙漠上，由於採礦而成爲大漠中繁榮的綠洲城市。「克拉瑪依」是維吾爾語中與當地居民生活息息相關的一個名詞，請問在維吾爾語中「克拉瑪依」的意義爲何？

- (A) 綠洲 (B) 盆地 (C) 黑油 (D) 城市

27. 圖(一)爲安徒生童話故事—小美人魚的主角，請問它的身後是哪一海域？

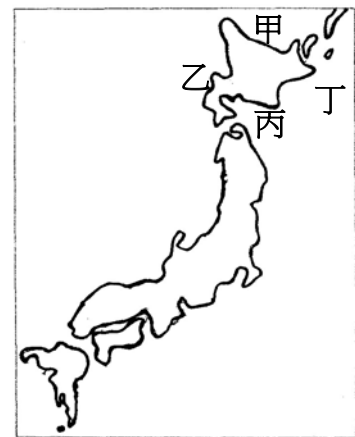
- (A) 松德海峽 (B) 英吉利海峽
(C) 荷莫茲海峽 (D) 博斯普魯斯海峽



圖(一)

28. 小明在寒假到北海道旅行，他乘坐破冰船到圖(二)中哪一海域，見到了難得一見的流冰景象？

- (A) 甲 (B) 乙 (C) 丙 (D) 丁



圖(二)

29. 圖(三)的「晒大佛」儀式是某民族每年雪頓節舉辦的重要儀式。請問該民族是：

- (A) 蒙族 (B) 藏族
(C) 滿族 (D) 壯族



圖(三)



30. 圖(四)、圖(五)中呈現的植物特徵，最有可能出現在下列哪一個地區？

- (A) 澳洲中部
- (B) 大興安嶺
- (C) 亞馬孫盆地
- (D) 阿爾卑斯山



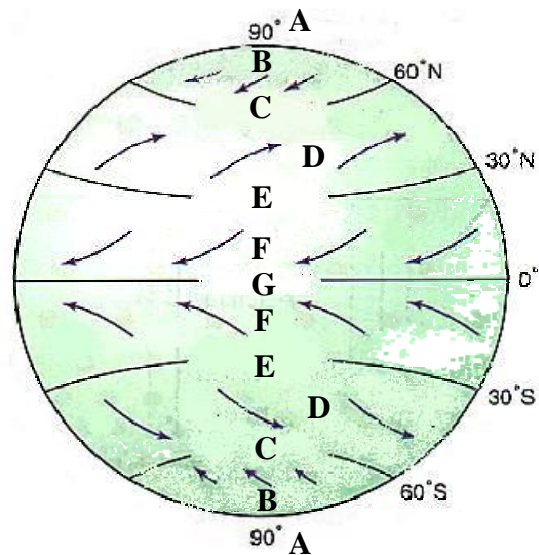
圖(四)



圖(五)

31. 地中海型氣候的特徵是夏乾冬雨，請問此種特徵主要是受到圖(六)中哪兩個行星風帶季移的影響？

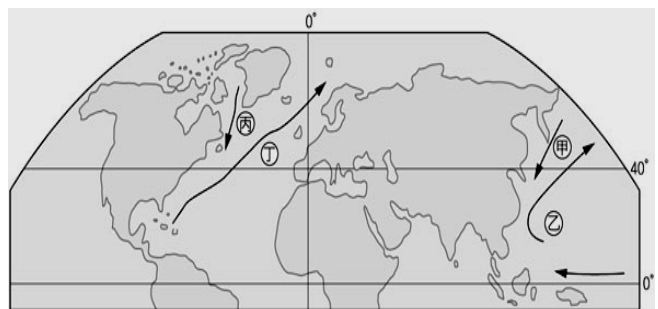
- (A) E 和 F
- (B) E 和 G
- (C) D 和 E
- (D) C 和 D



圖(六)

32. 圖(七)為北半球的海陸分布與洋流簡圖。其中哪兩處洋流屬於暖流性質？

- (A) 甲乙
- (B) 甲丙
- (C) 乙丁
- (D) 丙丁

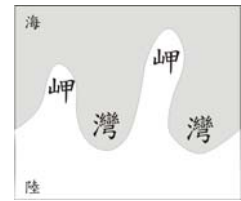


圖(七)



33. 圖(八)中的海岸類型示意圖，在臺灣哪一段海岸最可能見到？


- (A) 東部 (B) 西部 (C) 南部 (D) 北部



圖(八)

【以下為題組，每一題幹之下有 3-4 個問題】

* 拉普人是居住在歐洲北極圈內的原住民，當地夏天只能生長苔蘚、地衣等植物，只有馴鹿可賴以生存，所以拉普人的生活與馴鹿息息相關。圖(九)是拉普人隨著馴鹿遷移尋找食物的路線圖，試問：



圖(九)

34. 拉普人主要的生活方式為何？

- (A) 游牧 (B) 放牧 (C) 游耕 (D) 熱帶栽培業

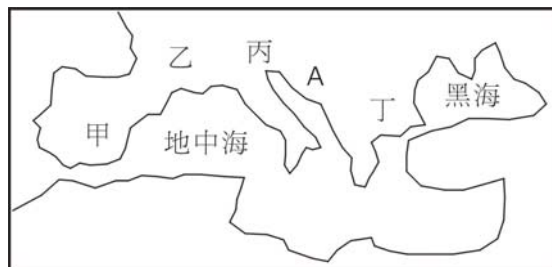
35. 北歐哪一國家境內最不易見到此景觀？

- (A) 瑞典 (B) 冰島 (C) 芬蘭 (D) 挪威

36. 當地夏季白晝的天氣特色是：

- (A) 炎熱而短促 (B) 涼爽而短促
(C) 涼爽而漫長 (D) 炎熱而漫長

* 阿成利用寒假到歐洲的地中海地區旅遊，並寄了多張明信片給臺灣的朋友，圖(十)是他自己繪製的地圖，請問：



圖(十)

37. 阿成在明信片上寫著：「嗨！我在貢多拉船上，聽著情歌，慢慢的經過一座座小橋，矗立兩旁



的教堂，傳來陣陣鐘聲……」，請判斷阿成正在圖中何處旅遊？

(A) 甲 (B) 乙 (C) 丙 (D) 丁

38. 「在這裡，我聽了好多關於宙斯、丘比特、維納斯...等神話，也參觀了神廟、祭壇和競技場，好不容易有時間好好的吃一頓當地傳統的晚餐...」此時阿成最可能吃的料理是：

(A) 椰汁雞飯 (B) 宮保雞丁 (C) 海膽壽司 (D) 黑橄欖沙拉

39. 阿成在 A 海岸最容易見到的景觀是：

(A) 槽湖 (B) 火山口 (C) 熔岩高原 (D) 石灰岩洞

40. 阿成在明信片上最後寫著：「結束南歐之行，我將前往音樂之都，聆聽紀念莫札特誕生 250 週年的音樂會...」請問阿成將前往哪一個城市旅遊？

(A) 巴黎 (B) 維也納 (C) 布拉格 (D) 慕尼黑

II. 非選擇題（共 3 題，請在答案紙上作答）

41. 南美洲的的喀喀湖（Titicaca）位於哪兩國的交界？

42. 「泰姬瑪哈陵」是亞洲地區著名的世界遺產，請問位於哪一個國家境內？

43. 《本草綱目》記載：「生東海，狀如青魚，長者尺餘，其子滿腹，有黃脂……」，每逢冬季，魚群會順著中國沿岸流向臺灣西海岸近海洄游，請問此種魚類的名稱是什麼？

~~ 結束 ~~



答案

1	2	3	4	5	6	7	8	9	10
D	A	B	D	C	D	D	A	C	B
11	12	13	14	15	16	17	18	19	20
A	A	D	B	B	A	A	D	A	B
21	22	23	24	25	26	27	28	29	30
D	B	D	C	C	C	A	A	B	C
31	32	33	34	35	36	37	38	39	40
C	C	D	A	B	C	C	D	D	B
41			42				43		
祕魯、玻利維亞			印度				烏魚（或鯔魚、飛鳥）		