



2007國家地理知識大競賽·縣市複賽試題卷(A)

【版權所有。但提供非營利目的之教育推廣使用！】

各位同學：

這份地理知識測驗共有**40**題選擇題，**5**題非選擇題，請將正確答案寫在空格中。題目主要包括地理概念與技能、區域特色、環境議題。有些你可能在學校的相關課程學習過，有些則需靠你平常多關心生活周遭與世界發生的事情；有些題目的答案很直接，有些則需要稍加推論。無論如何，都希望你能全力以赴，說不定你就是2009年暑期參加「國家地理世界錦標賽」的三位代表之一呢！有問題可以舉手問老師。加油！

一、單選題（每題 2 分，共 80 分）

1. 十七世紀，葡萄牙人前來亞洲殖民時，曾將從非洲帶來的黑人，作為某個地區的駐軍兵力，但是有部分的黑人逃出，並被鄭芝龍收編為部屬。由此推斷，鄭芝龍所收留的那批黑人，最可能原本是下列哪個地區的駐軍？
(A)澳門 (B)香港 (C)金門 (D)澎湖
2. 某位古人訪臺灣，曾寫下：「夜臥聞草樹聲與海濤聲，澎湃震耳，屋漏如傾...風雨益橫，屋前草亭飛去，如空中舞蝶...萬山崩流並下，汎濫四溢」。該文是在描述臺灣哪種自然災害的情景？
(A)雷雨 (B)寒流 (C)焚風 (D)颱風
3. 阿里山日出的時間，夏至約為清晨五點，冬至約為清晨七時，春分與秋分則大致為清晨六點。阿里山日出時間的變化，與下列哪個臺灣氣象俗諺的意義有關？
(A)春無三日晴，春無三日寒 (B)冬至一見面，日子長一線
(C)有錢難買五月旱 (D)雨天山戴帽，天晴雲攔腰
4. 臺灣南部的「紫蝶幽谷」，擁有世界級的蝴蝶生態景觀。該谷位於臺灣的哪個鄉鎮？
(A)雲林縣古坑鄉 (B)嘉義縣阿里山鄉 (C)臺南縣歸仁鄉 (D)高雄縣茂林鄉
5. 中國塔里木盆地周緣綠洲上的農田，主要是靠何種水源灌溉作物？
(A)雨水 (B)雪水 (C)湖水 (D)地下水

6. 「在內蒙古高原寂靜的夜晚，有時可以聽到蒙古包外石頭嘩啷碎裂的聲音。」高原上的石塊碎裂，與當地氣候的哪種特徵關係較密切？
(A)降水稀少 (B)年溫差大 (C)日溫差大 (D)降水強度大
7. 近數十年來，中國荒漠化的面積約相當於 73 個臺灣大，居世界各國之冠。下列何者不是造成中國荒漠化面積快速擴大的主要原因？
(A)濫墾 (B)濫伐 (C)過度灌溉 (D)過度放牧
8. 下列哪三項是中國的東南(閩浙)丘陵與嶺南丘陵，兩個地理區所具有的共同特色？
甲、人口壓力大 乙、山多平原少 丙、沿海多良港 丁、氣候終年溼熱
(A)甲、乙、丙 (B)甲、丙、丁 (C)乙、丙、丁 (D)甲、乙、丁
9. 地理老師要同學們以美國職籃 NBA 的各國球星之名，介紹他們母國的地理特色。以下是小明設計的四項，其中對哪個國家的敘述有錯誤？
(A)馬刺隊的吉諾布里：阿根廷有廣大的草原，也是南美洲最大的小麥生產國
(B)爵士隊的柯里蘭科：俄羅斯有全球最廣大的針葉林帶，也是世界八大工業國之一
(C)火箭隊的姚明：中國是世界人口密度最高的國家，還擁有世界最長的河流－長江
(D)太陽隊的奈許：加拿大的面積廣大，人口少，農場規模大，農民多利用機械耕作
10. 「穆斯林」是人們對哪種宗教信徒的稱呼？
(A)印度教 (B)基督教 (C)小乘佛教 (D)伊斯蘭教
11. 南非有時會出現一種從南方來的動物，當該動物誤入街道時，往來的車輛還得禮讓牠們。該種動物最可能是：
(A)駱駝 (B)斑馬 (C)企鵝 (D)羚羊
12. 下列何者是北非阿爾及利亞最重要的出口產品？
(A)石油 (B)黃金 (C)葡萄 (D)咖啡
13. 東南亞某國的面積約為臺灣的六分之一，但因為蘊藏有豐富的石油和天然氣，而成為世界的富有國家之一。該國最可能是：
(A)印尼 (B)汶萊 (C)新加坡 (D)馬來西亞
14. 「這個都市奠基在沿海的沼澤地，也是俄羅斯迎向歐洲的窗口!... 它擁有豐富的文化資產，並且大口吸納著西方的先進風氣...」。這段文字最可能是在描述下列哪個都市？
(A)莫斯科 (B)聖彼得堡 (C)敖得薩 (D)莫曼斯克
15. 班加洛的電腦資訊軟體輸出聞名全球，享有「印度矽谷」之稱。班加洛成為美國矽谷(122°W)資訊產業投資者最愛的原因之一，是兩地間的時差 13 小時(不考慮日光節約時間)，業務可在兩地間接手完成，效率很高。班加洛所在的經度大致是：
(A)67°E (B)77°E (C)86°E (D)90°E

16. 十六世紀前後，有個地區聚集了很多華人，不但原產於拉丁美洲的蕃薯、玉米，是由該地區輾轉傳入中國，西方殖民者從美洲得來的白銀，也是以該地區為據點與中國貿易，而流入中國。該地區最可能是位於當今哪個國家？
 (A)日本 (B)菲律賓 (C)南韓 (D)泰國
17. 下列哪個國家在 2005 年 11 月正式將首都遷移到奈多比？
 (A)緬甸 (B)巴西 (C)肯亞 (D)蒙特尼哥羅
18. 南極大陸近 96%的陸地被冰層覆蓋，冰層平均厚度超過 2000 公尺，其年平均降雪量（相當於的降水量）約為多少公釐？
 (A)10 (B)100 (C)500 (D)1000
19. 馬可波羅遊記中的主角，其故鄉是在歐洲的哪個地方？
 (A)威尼斯 (B)羅馬 (C)雅典 (D)高盧
20. 石勒蘇益格－荷爾斯泰因邦是德國唯一的濱臨兩處海域的行政區。請問此該邦瀕臨的海域是：
 (A)地中海、波羅的海 (B)地中海、大西洋 (C)北海、波羅的海 (D)北海、大西洋
21. 「宴席設在一個爬滿葡萄藤的涼亭蔭下，餐桌上有沙拉、冰葡萄酒、水果，還有一個正在火爐上烤著的起司蛋奶酥；從遠處的橄欖樹葉反射出來的陽光，天氣好像很熱，但我們所置身的露天平臺卻相當涼爽。」。以上文字最可能是在描述哪種氣候區的鄉村田園景觀？
 (A)溫帶地中海型氣候 (B)溫帶海洋性氣候
 (C)溫帶大陸性氣候 (D)溫帶季風氣候



圖 1

22. 下列哪個國家年中高溫季節的月份和其他三地不同？
 (A)美國（加州） (B)希臘
 (C)阿爾及利亞 (D)紐西蘭
23. 某國在歷史上一向被劃分為亞洲國家，但卻在 2004 年加入歐盟。請問該國位於圖 1 中何處？
 (A)甲 (B)乙 (C)丙 (D)丁



圖 2

24. 圖 2 為世界哪個重要組織的旗幟？
 (A)聯合國 (B)八大工業國 (C)世界貿易組織 (D)亞太經合會

25. 圖 3 的是世界某重要貨幣的十元紙鈔，其上繪有厚重的牆壁、圓形拱門、列柱廊等圖像。該圖像是屬於哪種形式的建築風格？
 (A)美國式 (B)阿拉伯式
 (C)印度式 (D)希臘羅馬式



圖 3

26. 在 19 世紀中葉，美國花費 720 萬美元向俄羅斯購買了一塊土地，該地即是今日美國的哪個州？

- (A) 德克薩斯州 (B) 華盛頓州
(C) 阿拉斯加州 (D) 賓夕法尼亞州

27. 圖 4 中長有一對樹枝狀犄角的動物，牠們每年會進行長達數百公里的大遷移。這種動物主要分布在哪个地區？

- (A) 中國西部 (B) 美洲北部 (C) 非洲中部 (D) 澳洲西部



圖 4

28. 下列為世界上主要的湖泊：甲、貝加爾湖，乙、裏海，丙、鹹海，丁、蘇必略湖，戊、的的喀喀湖，己、維多利亞湖，庚、長白山天池。其中最深湖泊、最高的湖泊、最大的鹹水湖、最大的淡水湖，依序為何？

- (A) 甲己丙戊 (B) 甲戊丙丁 (C) 乙庚丙丁 (D) 甲戊乙丁

29. 圖 5 為臺灣某一古寺的「水手舍」照片，此景觀反映了下列何種文化現象？

- (A) 入境隨俗 (B) 殖民遺風 (C) 文化同化 (D) 哈日風盛



圖 5

30. 下列哪個國家曾宣示其擁有北極海的部份主權？

- (A) 芬蘭 (B) 瑞典 (C) 英國 (D) 丹麥

31. 小珊在海外遊學時，來自不同國家的同學常聊天介紹自己的國家。其中哪位同學介紹的內容和事實不符？

- (A) 芬蘭同學：我的國家鄰接波的尼亞灣
(B) 羅馬尼亞同學：我的國家鄰接裏海
(C) 克羅埃西亞同學：我的國家鄰接亞得里亞海
(D) 葡萄牙同學：我的國家面臨大西洋

32. 南洋群島的甲、新加坡，乙、印尼，丙、汶萊，丁、馬來西亞，戊、菲律賓等 5 個國家中，哪三個國家信奉伊斯蘭教的居民，佔該國總人口的一半以上？

- (A) 甲乙丁 (B) 乙丙丁 (C) 乙丁戊 (D) 丙丁戊

33. 世界各地熱帶沙漠氣候的成因，或多或少有些差異，但下列哪項是共同的成因？

- (A) 距海遙遠 (B) 副熱帶高壓籠罩 (C) 位於背風側 (D) 寒流流經

34. 圖 6 為世界海洋表面溫度與鹽度關係圖。由圖中可知，在中高緯度地區，緯度愈高，則海水溫度與鹽度也大致愈低，但為何赤道地區的海水鹽度反而較南北兩側地區為低？

- (A) 河流注入數量較多 (B) 海底生物較豐富
(C) 年降水量較豐沛 (D) 海洋面積較廣大

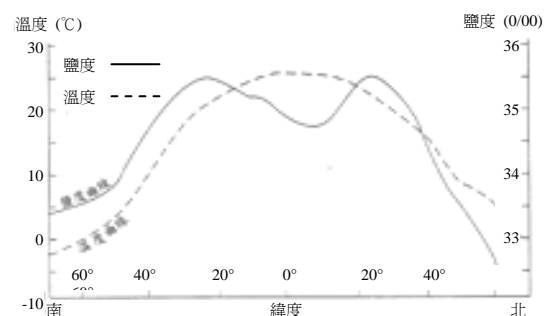


圖 6

35. 今年五月與臺灣恢復外交關係的聖露西亞(Saint Lucia)，地處下列哪個群島？
 (A)大安地列斯群島(Greater Antilles) (B)東印度群島(East Indies)
 (C)巴哈馬群島(Bahamas) (D)小安地列斯群島(Lesser Antilles)

36. 臺灣下列哪種動物，「沒有」季節性的遷徙習性？
 (A)鮭魚 (B)鰻魚
 (C)紫斑蝶 (D)燕子

37. 丁丁和三位好友利用圖 7 討論甲、乙、丙三個城鎮的人口和聚落的問題。

迪西說：乙城鎮的人口密度最高，所以最可能出現住宅不足的問題。

拉拉說：乙的比例尺最大，所以看到的聚落範圍最小。

小波說：丙鎮的人口密度為每平方公里 5000 人。

丁丁說：甲城鎮的人口密度為每平方公里 700 人。

以上哪位的敘述是「錯」的？

- (A)迪西 (B)拉拉 (C)小波 (D)丁丁

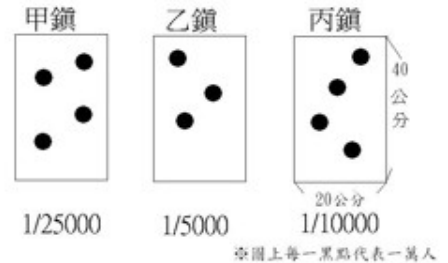


圖 7

38. 圖 8 是某一幅臺灣堡圖（1904 年出版）的一小部分。在該幅圖的右側標示有「頂平林」三字，由此可得知下列哪項訊息？

- (A)本張地圖涵蓋地區的地形高而平坦
 (B)本張地圖隸屬的行政區名稱爲頂平林
 (C)鄰接本張地圖東側的地圖名稱爲頂平林
 (D)本張地圖的出版單位爲頂平林

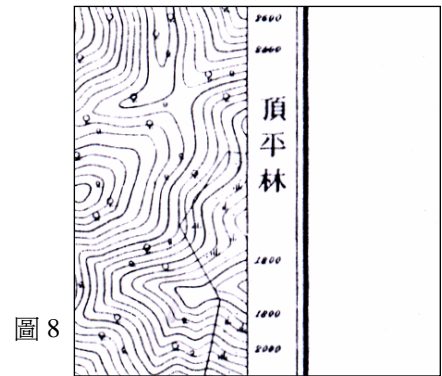


圖 8

39. 圖 9 的地球儀，在內容與擺設的設計上，最大的問題爲何？

- (A)赤道繪製過粗
 (B)地軸傾斜角度有誤
 (C)日本位置過於偏東
 (D)太平洋島嶼標示不足



圖 9

40. 圖 10 的照片最可能是在印尼的哪個島嶼拍攝的？

- (A)爪哇島 (B)峇里島
 (C)蘇門答臘島 (D)蘇拉維西島



圖 10

二、非選擇題（共 20 分）

41. 中國的沙塵暴最常發生在哪個季節？（2 分）

參考答案：春（季），春天

42. 圖 11 的教堂是位於我國在歐洲唯一的邦交國中。這個國家被哪座城市所包圍？（2 分）

參考答案：羅馬

43. 在哥倫布發現新大陸前，中南美洲原有三大古文明，但在歐洲人入侵後，這些古文明帝國幾乎消失殆盡，請問這三大古文明中何者並「非」毀於歐洲人之手？（2 分）



圖 11

參考答案：馬雅（文明、文化）

44. 圖 12 為亞洲某一國際組織的會員國分布圖。該組織的「中文全名」和「英文簡稱」分別是：（4 分）

參考答案：東南亞國協 或 東南亞國家聯盟；
ASEAN

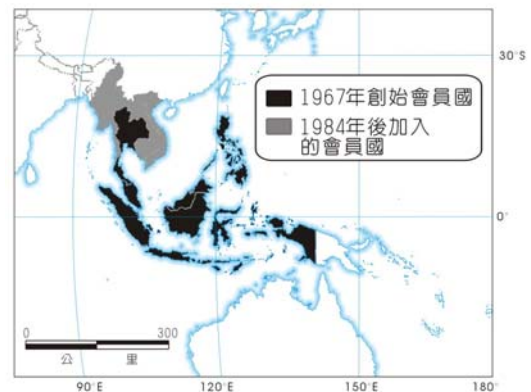


圖 12

45. 請盡可能準確的描繪出南美洲的簡圖。包括：

- 南美洲大陸的陸地輪廓（重點是海岸主要轉折處的相對位置和整體形狀的相似性）
- 南回歸線跨越南美洲的位置（以線條表現）
- 安地斯山脈的延長範圍
- 亞馬孫河的主流（重點是主流路的流向和河口位置）
- 麥哲倫海峽的位置

（10 分）

參考答案：（略）

【試題卷請隨答案卷繳回】

【版權所有。但提供非營利目的之教育推廣使用！ 命題委員會謹致】